



مجتمع غیردولتی دانشمند
دبستان پسرانه دانشمند

بیتکان

نام و نام خانوادگی :

پایه : سوم

موضوع :

1401

تاریخ : / ۰۲ /

ارزشیابی ریاضی فصل ۴ و ۵

۱- جاهای خالی را با کلمه‌های مناسب پر کنید .

الف (وسیله ای که با آن دایره می کشند ، نام دارد .

ب (به دور تا دور یک شکل آن شکل می‌گویند .

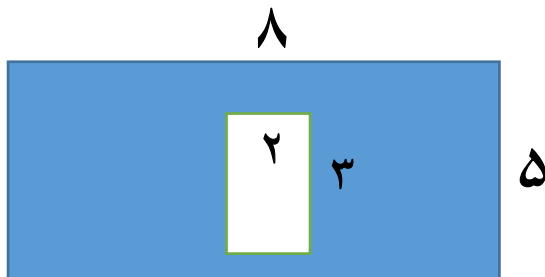
۲- حاصل ضرب‌های زیر را به روش های خواسته شده به دست آورید :

$$7 \times 6 = \text{جمع}$$

$$5 \times 3 = \text{شکل}$$

$$2 \times 5 = \text{محور}$$

۳- محیط و مساحت مستطیلی به طول ۷ و عرض ۳ را به دست آورید .



۴- مساحت قسمت رنگی را محاسبه کنید .

۵- طول کدام یک از خط های زیر را می‌توان اندازه گیری کرد ؟

الف : خط راست

ب: پاره خط

ج: نیم خط

د: خط خمیده

۶- رضا ۹ کتاب دارد و احمد از ۳ برابر کتاب های او ، ۵ تا بیشتر دارد ؟ آنها روی هم چند کتاب دارند ؟



۷- جاهای خالی را کامل کنید .

$$3 \times 8 = (3 \times \square) + (3 \times 6)$$

$$12 \times \square = 12$$

$$45 \div \square = 9$$

۸- قطر شکل های زیر را رسم کنید .



- ۹- دایره‌ای به شعاع ۳۶ سانتی متر رسم کنید .
الف : دهانه‌ی پرگار را چند سانتی متر باز می‌کنید ؟
ب: قطر دایره چند سانتی متر است ؟

- ۱۰- محیط شکل را به دست آورید .

